

**Задания школьного этапа Всероссийской олимпиады по географии
2023–2024 учебный год.**

4 класс

Время выполнения заданий – 45 минут

Максимальный балл за все задания – 50 баллов

Уважаемые участники олимпиады, теоретический тур олимпиады включает 4 задания. Внимательно познакомьтесь с характером каждого из них и определите для себя последовательность выполнения работы. Ответы каждого из них запишите в листе ответов.

Начинать работу можно с любого задания, однако, рекомендуется выполнять задания в том порядке, в котором они даны. Если какое-то задание вызывает у вас затруднение, пропустите его и постарайтесь выполнить те, в ответах которых вы уверены. К пропущенным заданиям можно будет вернуться, если у вас останется время

Часть I. – 20 баллов (по 1 баллу за каждый правильный ответ).

Вопросы с выбором одного правильного ответа из четырёх предложенных.

1. В переводе с греческого языка «география» означает

- а) описание Земли б) изучение Земли в) жизнь на Земле г) изменение Земли 1

2. Что такое глобус?

- а) модель Солнца б) модель Земли в) модель шара 1

3. Какой признак отличает нашу планету от других «планет земной группы»?

- а) имеет твёрдую поверхность
б) имеет атмосферу
в) имеет естественный спутник
 г) присутствует вода в жидком, твёрдом и газообразном состоянии —

4. К объектам живой природы относится

- а) кристалл б) сосулька в) гриб г) луна 1

5. Кто из древних ученых первым предположил, что Земля имеет форму шара?

- а) Пифагор б) Птолемей в) Коперник г) Аристотель 1

6. Отметьте ряд, в котором указаны планеты, входящие в группу планет-гигантов.

- а) Сатурн, Земля, Марс б) Марс, Венера, Юпитер
в) Земля, Плутон, Уран, Нептун г) Юпитер, Сатурн, Уран, Нептун 1

7. Дополните утверждение: «На сегодняшний день существует ... материков».

- а) 8 б) 4 в) 5 г) 6 1

8. Какой материк называют Новым светом?

- а) Африка б) Америка в) Антарктида г) Австралия. 1

9. Как называется прибор для ориентирования на местности?

- а) компас б) флюгер в) азимут г) барометр 1

10. Если встать лицом на север, то с правой стороны будет:

- а) юг б) восток в) запад г) северо – восток 1

11. Как появилась почва?

- а) она всегда была на планете
б) в результате извержения вулкана
 в) из рыхлого слоя горных пород, измененного растениями и животными 1
г) в результате распашки полей человеком

12. Какие горы принято считать границей между Европой и Азией?

- а) Алтайские горы б) Уральские горы 1
в) Кавказские горы г) Воробьевы горы

13. Какая из перечисленных гор находится в России и является высочайшей вершиной Европы?

- а) Эльбрус б) Эверест
 в) Мак-Кинли г) Килиманджаро

1

14. Моря какого океана не омывают берега России?

- а) Индийского б) Тихого
 в) Северного Ледовитого г) Атлантического

✓

15. Какая из перечисленных рек находится в России и является самой длинной в Европе?

- а) Енисей б) Лена в) Нева г) Волга

—

16. В России находится самое глубокое озеро мира. Как оно называется?

- а) озеро Ильмень б) Ладожское озеро
 в) озеро Байкал г) Онежское озеро

1

17. Полезные ископаемые – это...

- а) все минералы и горные породы, из которых состоит Земля.
 б) минералы и горные породы, которые используют люди
 в) полезные вещества, которые получают из горных пород и минералов.

—

18. Наиболее обширная природная зона России — это ...

- а) степь б) тундра в) пустыня г) тайга

1

19. Этот самый большой остров планеты, целиком покрыт льдами. Его коренные жители, эскимосы, занимаются охотой и рыболовством.

- а) Сахалин б) Гренландия в) Гавайи

1

20. Что такое карта полушарий?

- а) карта, на которой дано изображение какой-то территории.
 б) карта, на которой изображены две половинки земного шара.
 в) карта, на которой изображена Земля.

1

Часть II.

Разделите приведённые ниже слова на две группы: объекты природы и явления природы.

За каждый правильный ответ начисляется 1 балл.

бактерии	гроза	ледоход	озеро
ветер	землетрясение	листопад	половодье
воздух	камнепад	минералы	дерево
вулкан	родник	облако	спячка

Объекты природы	Явления природы
бактерии, ветер , вулкан, родник, облако, озеро, камнепад, листопад, дерево	гроза, ветер, землетрясение, листопад, спячка

115

Г403

Часть III.

За каждый правильный ответ начисляется 1 балл.

1. Подбери общий материк для следующих организмов:

утконос, ехидна, кенгуру, дикая собака Динго, райские птицы.

Ответ: Австралия

1

2. Во всех этих словах течёт древнерусская река, впадающая в Азовское море.

Отыщи её название. В ответе напиши получившееся слово.

ЛАДОНЬ, ДОНОС, БИДОН

Ответ: ?

-

3. Горилла – самая крупная из всех обезьян, живущих на Земле. Иногда ее вес не выдерживают даже большие деревья! Горилла очень сильная: мускулам на ее лапах может позавидовать любой спортсмен. Вспоминай, на каком континенте мы можем увидеть это удивительное животное в естественной среде обитания?

В ответе запиши название континента.

Ответ: Африка

1

4. Выберите ВСЕ правильные ответы.

Медуза – это живое существо, потому что она:

- а) плавает в морях
- б) может находиться только в воде
- в) размножается
- г) дышит
- д) питается

3

5. Выберите ВСЕ правильные ответы. Выберите из списка животных, занесённых в Красную книгу России.

- а) белый медведь
- б) амурский тигр
- в) русский выхухоль
- г) бурый медведь
- д) лось
- е) дальневосточный леопард

4

Часть IV. При выполнении заданий на соответствие к каждой позиции, данной в первом столбце, подберите соответствующую позицию из второго столбца.

Установите соответствие между исследователями (а-г) космоса и их достижениями (1-3).

а) Ю. Гагарин	1) Первый учёный, который доказал, что реальным средством освоения космоса станет ракета
б) С. Королёв	2) Первый полёт человека в космос
в) К. Циолковский	3) Организатор производства ракетно-космической техники
г) Н. Пилюгин	4) Создатель системы управления ракетами-носителями.

1

*Задание 3.7.
Алексеева Л.С.*

**Задания школьного этапа Всероссийской олимпиады по географии
2023–2024 учебный год.**

4 класс

Время выполнения заданий – 45 минут

Максимальный балл за все задания – 50 баллов

Уважаемые участники олимпиады, теоретический тур олимпиады включает 4 задания. Внимательно познакомьтесь с характером каждого из них и определите для себя последовательность выполнения работы. Ответы каждого из них запишите в листе ответов.

Начинать работу можно с любого задания, однако, рекомендуется выполнять задания в том порядке, в котором они даны. Если какое-то задание вызывает у вас затруднение, пропустите его и постарайтесь выполнить те, в ответах которых вы уверены. К пропущенным заданиям можно будет вернуться, если у вас останется время

Часть I. – 20 баллов (по 1 баллу за каждый правильный ответ).

Вопросы с выбором одного правильного ответа из четырёх предложенных.

- 1. В переводе с греческого языка «география» означает**
 - а) описание Земли
 - б) изучение Земли
 - в) жизнь на Земле
 - г) изменение Земли
- 2. Что такое глобус?**
 - а) модель Солнца
 - б) модель Земли
 - в) модель шара
- 3. Какой признак отличает нашу планету от других «планет земной группы»?**
 - а) имеет твёрдую поверхность
 - б) имеет атмосферу
 - в) имеет естественный спутник
 - г) присутствует вода в жидком, твёрдом и газообразном состоянии
- 4. К объектам живой природы относится**
 - а) кристалл
 - б) сосулька
 - в) гриб
 - г) луна
- 5. Кто из древних ученых первым предположил, что Земля имеет форму шара?**
 - а) Пифагор
 - б) Птолемей
 - в) Коперник
 - г) Аристотель
- 6. Отметьте ряд, в котором указаны планеты, входящие в группу планет-гигантов.**
 - а) Сатурн, Земля, Марс
 - б) Марс, Венера, Юпитер
 - в) Земля, Плутон, Уран, Нептун
 - г) Юпитер, Сатурн, Уран, Нептун
- 7. Дополните утверждение: «На сегодняшний день существует ... материков».**
 - а) 8
 - б) 4
 - в) 5
 - г) 6
- 8. Какой материк называют Новым светом?**
 - а) Африка
 - б) Америка
 - в) Антарктида
 - г) Австралия.
- 9. Как называется прибор для ориентирования на местности?**
 - а) компас
 - б) флюгер
 - в) азимут
 - г) барометр
- 10. Если встать лицом на север, то с правой стороны будет:**
 - а) юг
 - б) восток
 - в) запад
 - г) северо – восток
- 11. Как появилась почва?**
 - а) она всегда была на планете
 - б) в результате извержения вулкана
 - в) из рыхлого слоя горных пород, измененного растениями и животными
 - г) в результате распашки полей человеком
- 12. Какие горы принято считать границей между Европой и Азией?**
 - а) Алтайские горы
 - б) Уральские горы
 - в) Кавказские горы
 - г) Воробьевы горы

13. Какая из перечисленных гор находится в России и является высочайшей вершиной Европы?

- а) Эльбрус б) Эверест
в) Мак-Кинли г) Килиманджаро

14. Моря какого океана не омывают берега России?

- а) Индийского б) Тихого
в) Северного Ледовитого г) Атлантического

15. Какая из перечисленных рек находится в России и является самой длинной в Европе?

- а) Енисей б) Лена в) Нева г) Волга

16. В России находится самое глубокое озеро мира. Как оно называется?

- а) озеро Ильмень б) Ладожское озеро
в) озеро Байкал г) Онежское озеро

17. Полезные ископаемые – это...

- а) все минералы и горные породы, из которых состоит Земля.
б) минералы и горные породы, которые используют люди
в) полезные вещества, которые получают из горных пород и минералов.

18. Наиболее обширная природная зона России — это ...

- а) степь б) тундра в) пустыня г) тайга

19. Этот самый большой остров планеты, целиком покрыт льдами. Его коренные жители, эскимосы, занимаются охотой и рыболовством.

- а) Сахалин б) Гренландия в) Гавайи

20. Что такое карта полушарий?

- а) карта, на которой дано изображение какой-то территории.
б) карта, на которой изображены две половинки земного шара.
в) карта, на которой изображена Земля.

Часть II.

Разделите приведённые ниже слова на две группы: объекты природы и явления природы.

За каждый правильный ответ начисляется 1 балл.

бактерии	гроза	ледоход	озеро
ветер	землетрясение	листопад	половодье
воздух	камнепад	минералы	дерево
вулкан	родник	облако	спячка

Объекты природы	Явления природы
озеро	листопад
дерево	камнепад
бактерии	землетрясение
вулкан	половодье
родник	ветер
облако	гроза
минералы	спячка
воздух	ледоход

165

Часть III.

За каждый правильный ответ начисляется 1 балл.

1. Подбери общий материк для следующих организмов:

утконос, ехидна, кенгуру, дикая собака Динго, райские птицы.

Ответ: австралия

1

2. Во всех этих словах течёт древнерусская река, впадающая в Азовское море. Отыщи её название. В ответе напиши получившееся слово.

ЛАДОНЬ, ДОНОС, БИДОН

Ответ: дон

1

3. Горилла – самая крупная из всех обезьян, живущих на Земле. Иногда ее вес не выдерживают даже большие деревья! Горилла очень сильная: мускулам на ее лапах может позавидовать любой спортсмен. Вспоминай, на каком континенте мы можем увидеть это удивительное животное в естественной среде обитания?

В ответе запиши название континента.

Ответ: африка

1

4. Выберите ВСЕ правильные ответы.

Медуза – это живое существо, потому что она:

- а) плавает в морях
- б) размножается
- в) питается
- г) может находиться только в воде
- д) дышит

3

5. Выберите ВСЕ правильные ответы. Выберите из списка животных, занесённых в Красную книгу России.

- а) белый медведь
- б) русская выхухоль
- г) бурый медведь
- в) амурский тигр
- е) дальневосточный леопард
- д) лось

3

Часть IV. При выполнении заданий на соответствие к каждой позиции, данной в первом столбце, подберите соответствующую позицию из второго столбца.

Установите соответствие между исследователями (а-г) космоса и их достижениями (1-3).

а) Ю. Гагарин	1) Первый учёный, который доказал, что реальным средством освоения космоса станет ракета
б) С. Королёв	2) Первый полёт человека в космос
в) К. Циолковский	3) Организатор производства ракетно-космической техники
г) Н. Пилюгин	4) Создатель системы управления ракетами-носителями.

1

1

Зач. Заева З. П.
ср. - проект стола и.с.

**Задания школьного этапа Всероссийской олимпиады по географии
2023–2024 учебный год.**

4 класс

Время выполнения заданий –45 минут

Максимальный балл за все задания – 50 баллов

Уважаемые участники олимпиады, теоретический тур олимпиады включает 4 задания. Внимательно познакомьтесь с характером каждого из них и определите для себя последовательность выполнения работы. Ответы каждого из них запишите в листе ответов.

Начинать работу можно с любого задания, однако, рекомендуется выполнять задания в том порядке, в котором они даны. Если какое-то задание вызывает у вас затруднение, пропустите его и постарайтесь выполнить те, в ответах которых вы уверены. К пропущенным заданиям можно будет вернуться, если у вас останется время

Часть I. – 20 баллов (по 1 баллу за каждый правильный ответ).

Вопросы с выбором одного правильного ответа из четырёх предложенных.

- 1. В переводе с греческого языка «география» означает 1
 - а) описание Земли
 - б) изучение Земли
 - в) жизнь на Земле
 - г) изменение Земли
- 2. Что такое глобус? 1
 - а) модель Солнца
 - б) модель Земли
 - в) модель шара
- 3. Какой признак отличает нашу планету от других «планет земной группы»? 1
 - а) имеет твёрдую поверхность
 - б) имеет атмосферу
 - в) имеет естественный спутник
 - г) присутствует вода в жидком, твёрдом и газообразном состоянии
- 4. К объектам живой природы относится 1
 - а) кристалл
 - б) сосулька
 - в) гриб
 - г) луна
- 5. Кто из древних ученых первым предположил, что Земля имеет форму шара? 1
 - а) Пифагор
 - б) Птолемей
 - в) Коперник
 - г) Аристотель
- 6. Отметьте ряд, в котором указаны планеты, входящие в группу планет-гигантов. 1
 - а) Сатурн, Земля, Марс
 - б) Марс, Венера, Юпитер
 - в) Земля, Плутон, Уран, Нептун
 - г) Юпитер, Сатурн, Уран, Нептун
- 7. Дополните утверждение: «На сегодняшний день существует ... материков». -
 - а) 8
 - б) 4
 - в) 5
 - г) 6
- 8. Какой материк называют Новым светом? -
 - а) Африка
 - б) Америка
 - в) Антарктида
 - г) Австралия.
- 9. Как называется прибор для ориентирования на местности? ✓
 - а) компас
 - б) флюгер
 - в) азимут
 - г) барометр
- 10. Если встать лицом на север, то с правой стороны будет: -
 - а) юг
 - б) восток
 - в) запад
 - г) северо – восток
- 11. Как появилась почва? 1
 - а) она всегда была на планете
 - б) в результате извержения вулкана
 - в) из рыхлого слоя горных пород, измененного растениями и животными
 - г) в результате распашки полей человеком
- 12. Какие горы принято считать границей между Европой и Азией? 1
 - а) Алтайские горы
 - б) Уральские горы
 - в) Кавказские горы
 - г) Воробьевы горы

13. Какая из перечисленных гор находится в России и является высочайшей вершиной Европы?

- а) Эльбрус б) Эверест
в) Мак-Кинли г) Килиманджаро

1

14. Моря какого океана не омывают берега России?

- а) Индийского б) Тихого
в) Северного Ледовитого г) Атлантического

1

15. Какая из перечисленных рек находится в России и является самой длинной в Европе?

- а) Енисей б) Лена в) Нева г) Волга

1

16. В России находится самое глубокое озеро мира. Как оно называется?

- а) озеро Ильмень б) Ладожское озеро
в) озеро Байкал г) Онежское озеро

1

17. Полезные ископаемые – это...

- а) все минералы и горные породы, из которых состоит Земля.
б) минералы и горные породы, которые используют люди
в) полезные вещества, которые получают из горных пород и минералов.

1

18. Наиболее обширная природная зона России — это ...

- а) степь б) тундра в) пустыня г) тайга

1

19. Этот самый большой остров планеты, целиком покрыт льдами. Его коренные жители, эскимосы, занимаются охотой и рыболовством.

- а) Сахалин б) Гренландия в) Гавайи

-

20. Что такое карта полушарий?

- а) карта, на которой дано изображение какой-то территории.
б) карта, на которой изображены две половинки земного шара.
в) карта, на которой изображена Земля.

1

Часть II.

Разделите приведённые ниже слова на две группы: объекты природы и явления природы.

За каждый правильный ответ начисляется 1 балл.

бактерии ✓	гроза ✓	ледоход	озеро ✓
ветер ✓	землетрясение ✓	листопад ✓	половодье ✓
воздух ✓	камнепад ✓	минералы ✓	дерево ✓
вулкан ✓	родник ✓	облако ✓	спячка ✓

Объекты природы	Явления природы
вулкан	ветер
родник	гроза
минералы	камнепад
озеро	листопад
половодье -	спячка
дерево	облако -
бактерии	землетрясение
воздух	

135

Часть III.

За каждый правильный ответ начисляется 1 балл.

1. Подбери общий материк для следующих организмов:

утконос, ехидна, кенгуру, дикая собака Динго, райские птицы.

Ответ: _____

2. Во всех этих словах течёт древнерусская река, впадающая в Азовское море. Отыщи её название. В ответе напиши получившееся слово.

ЛАДОНЬ, ДОНОС, БИДОН

Ответ: Ладога

3. Горилла – самая крупная из всех обезьян, живущих на Земле. Иногда ее вес не выдерживают даже большие деревья! Горилла очень сильная: мускулам на ее лапах может позавидовать любой спортсмен. Вспоминай, на каком континенте мы можем увидеть это удивительное животное в естественной среде обитания?

В ответе запиши название континента.

Ответ: Африка

4. Выберите ВСЕ правильные ответы.

Медуза – это живое существо, потому что она:

- а) плавает в морях
- б) размножается
- в) питается
- г) может находиться только в воде
- д) дышит

3

5. Выберите ВСЕ правильные ответы. Выберите из списка животных, занесённых в Красную книгу России.

- а) белый медведь
- б) русская выхухоль
- в) амурский тигр
- г) бурый медведь
- д) лось
- е) дальневосточный леопард

3

Часть IV. При выполнении заданий на соответствие к каждой позиции, данной в первом столбце, подберите соответствующую позицию из второго столбца.

Установите соответствие между исследователями (а-г) космоса и их достижениями (1-3).

а) Ю. Гагарин	1) Первый учёный, который доказал, что реальным средством освоения космоса станет ракета
б) С. Королёв	2) Первый полёт человека в космос
в) К. Циолковский	3) Организатор производства ракетно-космической техники
г) Н. Пилюгин	4) Создатель системы управления ракетами-носителями.

1

Зав. Заева З.Г.
 Преподаватель Г.С.

БЛАНК ОТВЕТОВ

ШИФР: П-5-04

Теоретический тур

1. 25

1	2	3	4
2 1	А 1	В 0	Б 0

2. 05.

1	2	3	4
-	-	-	-

135.

3. Треншанедия 15.

4. — 05.

5. Христопор Колумб 15.

6. Сульфаты 15.

7. 1:700 000 05.

8. 25.

1	2	3	4
2 1	А 0	Б 1	В 0

9. Б) 15.

10. А) 15.

Практический тур

1. 05.

	Широколиственный лес
	Ключ, родник
	Сплошные заросли кустарника

2. 45.

Объект	Сторона горизонта
Еловый лес	Е между СВ 1
Болото	на юге 1
Тропинка	на западе 1.
Дом	между Ю и В 1

3. — 05.

Федосова к.с
Зав. Давы 3.7

БЛАНК ОТВЕТОВ

ШИФР: 11-6-10.

Теоретический тур

1. 25.

1	2	3	4
21	11	80	50

2. 45.

1	2	3	4
Григорий Чернышев	Курдский	Средиземное	Средиземное

205.

3. 15. Бразилия

4. 0. Индонезия

5. 10. А)

6. 15. А), Б)

7. 15. Г)

8. 10.




1	2	3	4
510	50	40	30

9. 10. А) - верна. ~~История предвещания в честь Кривошеина море~~

10. 25. А) - верна.

Практический тур

1. 25.

	Широколиственный лес	1
	Ключ, родник	0
	Сплошные заросли кустарника	1

2. 45.

Объект	Сторона горизонта
Еловый лес	Северо-восток 1
Болото	ЮЗ 1
Тропинка	Запад 1
Дом	ЮЗ-восток 15

3. 15 0 05

А) 15 05
 Задача 3?

БЛАНК ОТВЕТОВ

ШИФР: 17-02

Теоретический тур

1.

1	2	3	4	5
В	Р	Д	А	Б

30

2.

1	2	3	4
Балканский	Перенейский		

10

3. Амазонка 10

4. Байкал

5. А гипс, доломит 10

6. Г Северо-Сибирская низменность

7. Г 10

8.

1	2	3	4
Б	А	Г	В

9. Б самый теплый слой Атмосферы - ~~Д~~ мезосфера

10. понизиться на 15°

Практический тур

1.

1. Ошибка в логическом ряду	Ленивец 20
2. Обоснование исключения	живет в тропиках 20

2.

Полесский, Мавский, Гурьевский 20 + 30

9. Выберите верное утверждение.

- А) Холодный воздух менее плотный, поэтому для него характерно высокое атмосферное давление.
- Б) Самый тёплый по температуре слой атмосферы – мезосфера.
- В) Атмосферное давление выше на уровне моря, чем на горных вершинах.
- Г) Стратосфера расположена ниже по высоте, чем тропосфера.

Ответ: _____ – верно

10. Определите, на сколько градусов изменится температура при подъёме на гору высотой 1,5 км.

- А) понизится на 9°
- Б) повысится на 9°
- В) понизится на 15°
- Г) повысится на 15°

Ответ: _____ – верно

Практическая часть

Общее количество баллов: 11 б.

1. Опираясь на знания по географии, полученные в предыдущие годы, найдите ошибочный элемент в каждом логическом ряду, обоснуйте свой выбор: 4 б. (по 2 б. за найденную ошибку и обоснование).

Лисица-фенек – сурикат – патагонская мара – двугорбый верблюд – ленивец.

Ответ:

1. Ошибка в логическом ряду: ленивец

2. Обоснование исключения: Живёт в тропиках

2. Штриховкой отметить на карте территории, на которых имеются крупнейшие массивы польдерных земель (3 б.). Объяснить причины формирования ареалов польдеров на этих территориях (2 б.). Записать названия административных районов, на которых имеются крупнейшие массивы польдерных земель (2 б.).

Ответ: _____

Баллы: итого 7 б.



А. Кожитова
Зав. Далева 37

БЛАНК ОТВЕТОВ

Теоретический тур

ШИФР: Г-8-10

1.

1	2	3	4	5
В	Г	Б	А	Д

50

2.

1	2	3	4
Сингапурский Турнир	АРАВИЙСКИЙ СОМАН		

30

3. Амазонка 10

4. озеро Байкал

5. А 10

6. Б

7. Г 10

8.

1	2	3	4
Г	А	Б	В

20

9. В 10

10. ~~В~~ А 10

Практический тур

1.

1. Ошибка в логическом ряду	Лисаца
2. Обоснование исключения	В отличие от других зверей в ряду, лисаца обитает в тайге

2.

Славя, Неман, Мамросово, Савинск

9. Выберите верное утверждение.

- А) Холодный воздух менее плотный, поэтому для него характерно высокое атмосферное давление.
- Б) Самый тёплый по температуре слой атмосферы – мезосфера.
- В) Атмосферное давление выше на уровне моря, чем на горных вершинах.
- Г) Стратосфера расположена ниже по высоте, чем тропосфера.

Ответ: _____ – верно

10. Определите, на сколько градусов изменится температура при подъёме на гору высотой 1,5 км.

- А) понизится на 9°
- Б) повысится на 9°
- В) понизится на 15°
- Г) повысится на 15°

Ответ: _____ – верно

Практическая часть

Общее количество баллов: 11 б.

1. Опираясь на знания по географии, полученные в предыдущие годы, найдите ошибочный элемент в каждом логическом ряду, обоснуйте свой выбор: 4 б. (по 2 б. за найденную ошибку и обоснование).

Лисица-фенек – сурикат – патагонская мара – двугорбый верблюд – ленивец.

Ответ:

1. Ошибка в логическом ряду: _____.

2. Обоснование исключения: _____.

2. Штриховкой отметить на карте территории, на которых имеются крупнейшие массивы польдерных земель (3 б.). Объяснить причины формирования ареалов польдеров на этих территориях (2 б.). Записать названия административных районов, на которых имеются крупнейшие массивы польдерных земель (2 б.).

Ответ: _____

Баллы: итого 7 б.



И. Кошкинова К.С.
Зав. Заева З.З.

БЛАНК ОТВЕТОВ

Теоретический тур

ШИФР: Г912

1. 5б.

1	2	3	4	5
б)	г)	б)	а)	д)

2. 0б.

1	2	3	4	5
	мексиканский			

3. Амазонка 1б.

4. Маджарская 0б.

5. А) 1б.

6. А) 1б.

7. в) 1б.

8. 0б.

1	2	3	4
б)	а)	г)	б)

9. б) 0б.

10. А) 1б.

11. ~~а) б)~~ 1б.

12. г) 1б.

13. и) 0б.

14. ч) 0б.

15. д) 0б.

спл. Река Шиле.
Заул Гава 3.7

Практический тур

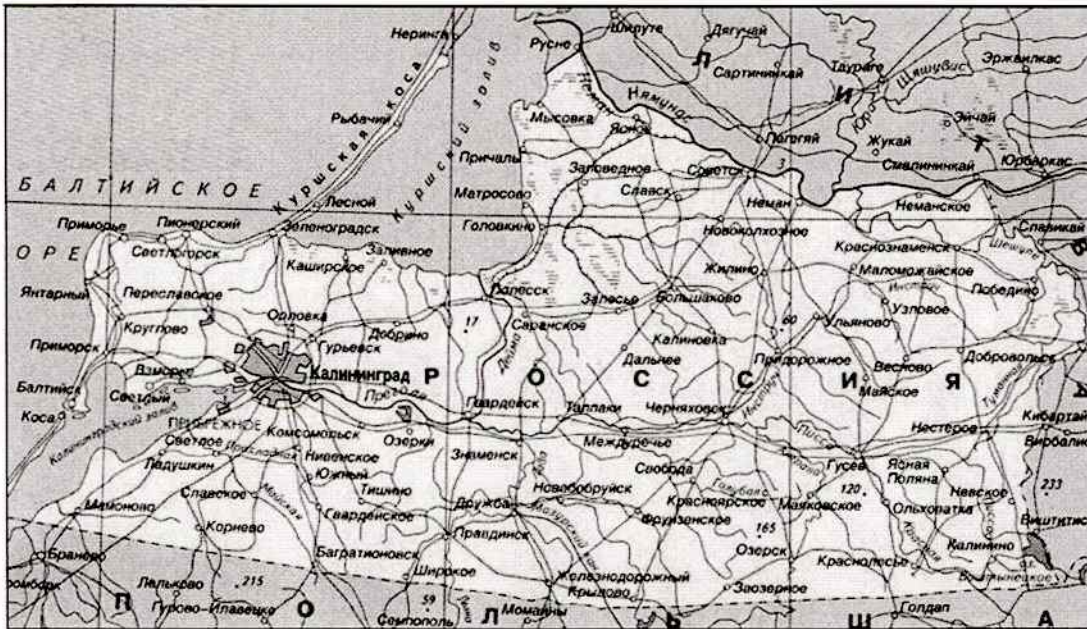
1.

об.

1. Ошибка в логическом ряду	Мишуря
2. Обоснование исключения	Мишуря - Мишурин

2.

об.



3.

об.

№	Объединяющий признак	Белая ворона	Объяснение	Продолжение логического ряда
1	Административные функции	Белокурья	Белокурья не ад. единица	Самы
2				
3				
4				
5				

БЛАНК ОТВЕТОВ

Теоретический тур

ШИФР: Г 9 13

1. 55.

1	2	3	4	5
В	Г	Б	А	А

2. 00.

1	2	3	4	5
Стригоцкий	Индия	Африка		

3. Антарктида 10.

4. арктические 10.

5. А 10.

6. А 10.

7. Г 10.

8. 10.

1	2	3	4
Г	А	В	Б

9. В 10.

10. А 10.

11. А Г Е З 40.

12. и 10.

13. палеолит 00.

14. З 10.

15. Г 10.

И. Рокитников К.С.
защита 3.2

Практический тур

1.

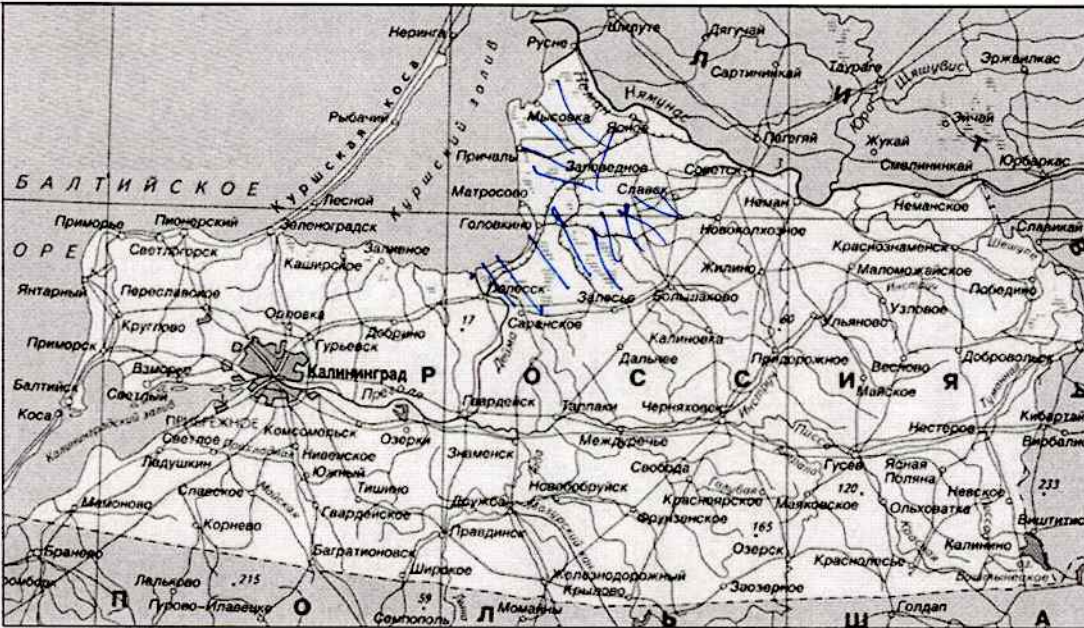
08

1. Ошибка в логическом ряду	Минимизация - размер
2. Обоснование исключения	Не находится в сфере влияния

2.

58

Тамбовской равнины, крупнейший
Туда куда там крупнейший мост, в среднем
число островов в реке, мост



3.

28

№	Объединяющий признак	Белая ворона	Объяснение	Продолжение логического ряда
1	Турция [Минимизация]	Индия	мало отпад меридиан	Все страны
2	Страны [Минимизация]	Австралия	ам не являясь северной страной	Турция - Австралия, Индия
3	Турция [Минимизация]	Индия	много отпад меридиан	Все страны
4	Турция [Минимизация]	Индия	много отпад меридиан	Все страны
5	Турция	Индия	много отпад меридиан	Все страны

on

БЛАНК ОТВЕТОВ

Теоретический тур

ШИФР: Г-10-11

1. 5б.

1	2	3	4	5
В,	Г,	Б,	А,	Д,

2. 5б.

1	2	3	4	5
В	Г	Б	А	Д

Малая Азия Балканский Флорида Ютакан Калифорния.

3. Амазонка 1б.

4. Белое озеро 0б.

5. А 1б.

6. Б 0б.

7. Г 1б.

8. 2б.

1	2	3	4
Г,	Б 0	В	А,

9. В 1б.

10. В 0б.

11. АГЕЗ 4б.

12. Л 1б.

13. 1 0б.

14. З 1б.

15. Г 1б.

авт. Реомитова КС.
 зав. Яава З.?

Практический тур

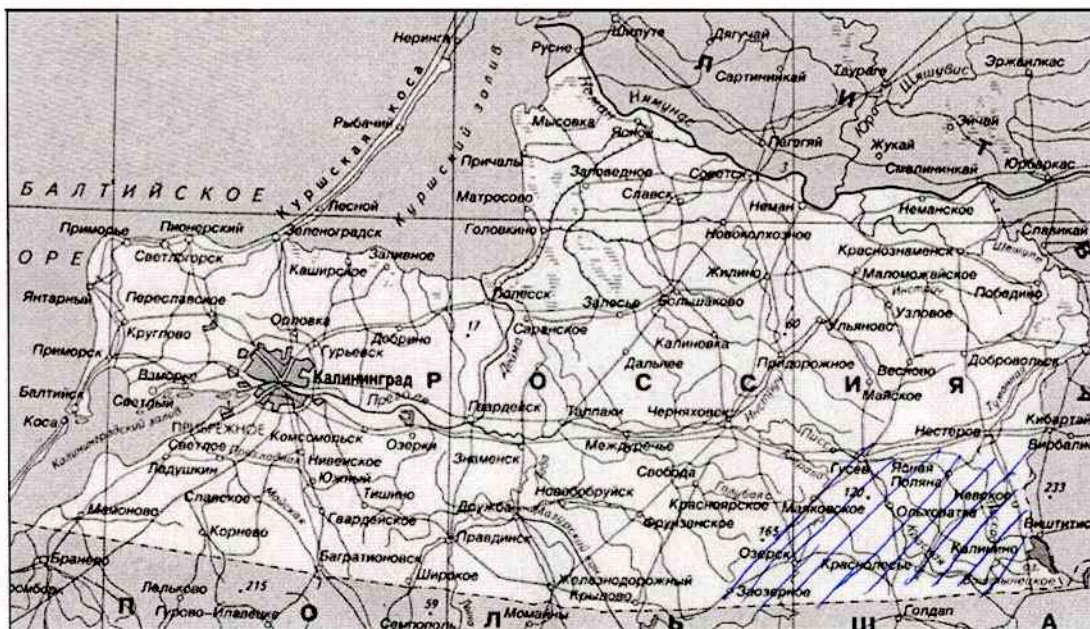
1.

45

1. Ошибка в логическом ряду	Ленивец 2
2. Обоснование исключения	Обитает в тропических лесах, остальные обитают в пустынной местности

2.

Нестеровский и Тубовский муниципальные районы



3.

25

№	Объединяющий признак	Белая ворона	Объяснение	Продолжение логического ряда
1	Города с развитой тяжелой промышлен-ю.	Волгоград	в нем развито сельское хозяйство	Екатеринбург
2	Столицы республик в составе РФ	Барнаул	Столица Алтайского края.	Трозный
3	Города на Транссибирской магистрали	Саратов	через него не проходит Транссиб	Улан - Удэ
4	Субъекты в Европейской части России	Зоботкальский край	находится в азиатской части	Достовская область
5	Города-курорты Кубани	Степань Русса	не является городом-курортом	Тлугансе

БЛАНК ОТВЕТОВ

Теоретический тур

ШИФР: Г-10-17

1. 55.

1	2	3	4	5
В 1	Г 1	Б 1	А 1	Д 1

2. 35.

1	2	3	4	5
Аравийский 0	Балканский 1	Флорида 2		Калифорнийский 1

3. Амазонка 15.

4. Онежское 15.

5. А 15.

6. ~~А~~ Б 05.

7. В 05.

8. 25.

1	2	3	4
Г 1	А 0	Б 1	В 0

9. Г 05.

10. В 05.

11. А Г Е З 45.

12. 1 05.

13. 1 15.

14. 3 15.

15. Г 15.

Константинов К.С.
Балл. Табл. 3.7.

Практический тур

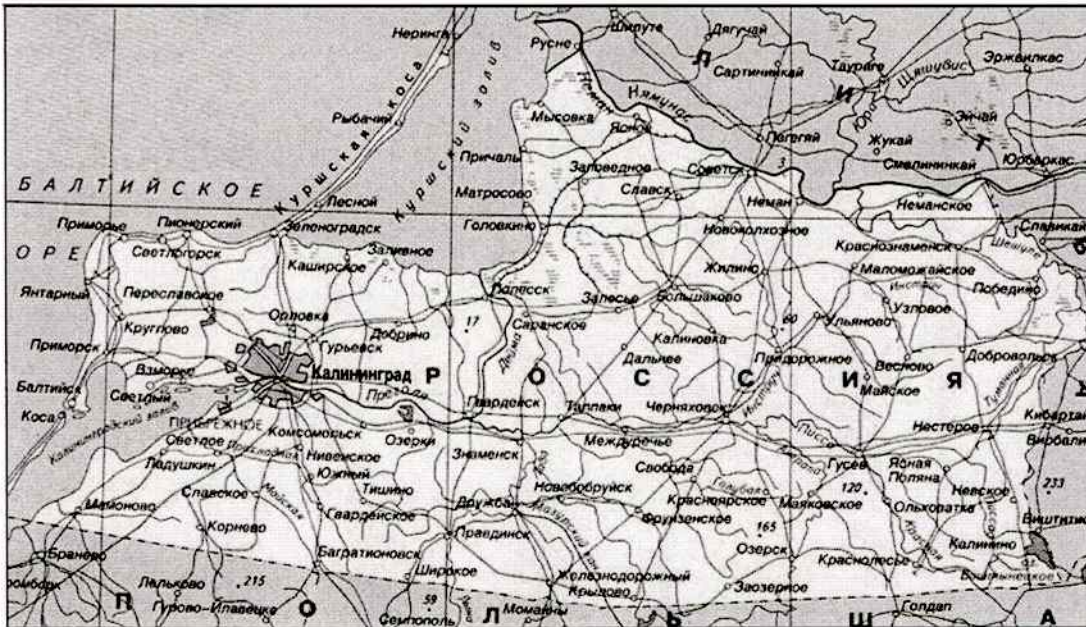
1.

45.

1. Ошибка в логическом ряду	2 Ленивец
2. Обоснование исключения	2 Остальные представителя обитают в зоне пустынь

2.

06.



3.

06.

№	Объединяющий признак	Белая ворона	Объяснение	Продолжение логического ряда
1 0	Добывающая промышленность	Волгоград	Аграрная промышленность	Магнитогорск
2 0	Столицы субъектов	Нальчик	Не является столицей субъекта	Калининград
3 0	Крупные железнодорожные узлы	Владивосток	Не является крупным ж/д узлом	Санкт-Петербург
4 0	Находятся в европейской части	Забайкальский край	Находится в азиатской части	Вологодская область
5 0	Туристические центры	Белокуриха	Не является туристич. центром	Сочи

БЛАНК ОТВЕТОВ

Теоретический тур

ШИФР: P-10-20

1. 58.

1	2	3	4	5
В	Г	Б	А	Д

2. 20.

1	2	3	4	5
ПАЛЕСТИНА	БАЛКАНСКИ П-ОВ	КАРОЛИНА	П-ОВ МАДЯ	КАЛЫФОРН- ИНСКИЙ ПОВ

3. АМАЗОНКА 10.

4. ЛАВОЧСКОЕ 08.

5. А 18.

6. Б 08.

7. Г 18.

8. 20.

1	2	3	4
Г	А	Б	В

9. В 18.

10. А 18.

11. ГЕЗ 38.

12. 4 18.

13. 1 08.

14. 3 18.

15. Г 18.

off Прохметова К.С.
Зав/ Галева З.Г.

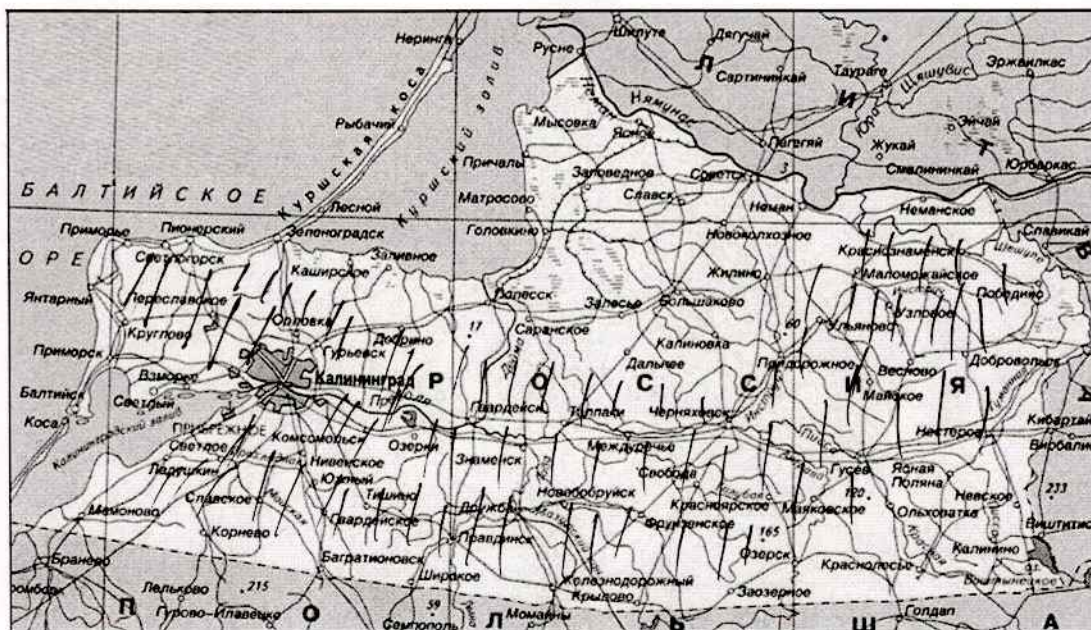
Практический тур

1.

1. Ошибка в логическом ряду	ЛЕНИВЕЦ
2. Обоснование исключения	ЛЕНИВЕЦ не обитает в этом районе вместе с остальными животными

2.

Гурьевский район, Гвардейский район,
Черныховский район, Гусевский район,
Светлогорский район, Багратионовский район.



3.

№	Объединяющий признак	Белая ворона	Объяснение	Продолжение логического ряда
1	обрасльхоз-ба	Волгоград	тут ничего не добывают	Воркута
2	Администрация центра	Ижевск	это не адм. центр	+ Петрозаводск
3	Транспорт			
4	южнее поларк. круга	Р. Карелия	южнее поларк. круга	Калининградская обл.
5	орникича городов	Зима	туристический города	Зеленоградск

БЛАНК ОТВЕТОВ

Теоретический тур

ШИФР: П-10-25

1. 5б.

1	2	3	4	5
В	Г	Б	А	Д

2. 2б.

1	2	3	4	5
Аравийский	Балканский	0	0	Калифорния

3. Амазонка 1б

4. Ладожское 0б

5. П 0б

6. А 1б

7. Г 1б

8. 2б.

1	2	3	4
П	А	Б	В

9. А 0б

10. В 0б

11. АРПЭС 4б

12. 4 1б

13. 3 1б

14. 3 1б

15. П 1б

срл: Геохимия КС
Занял 3.2

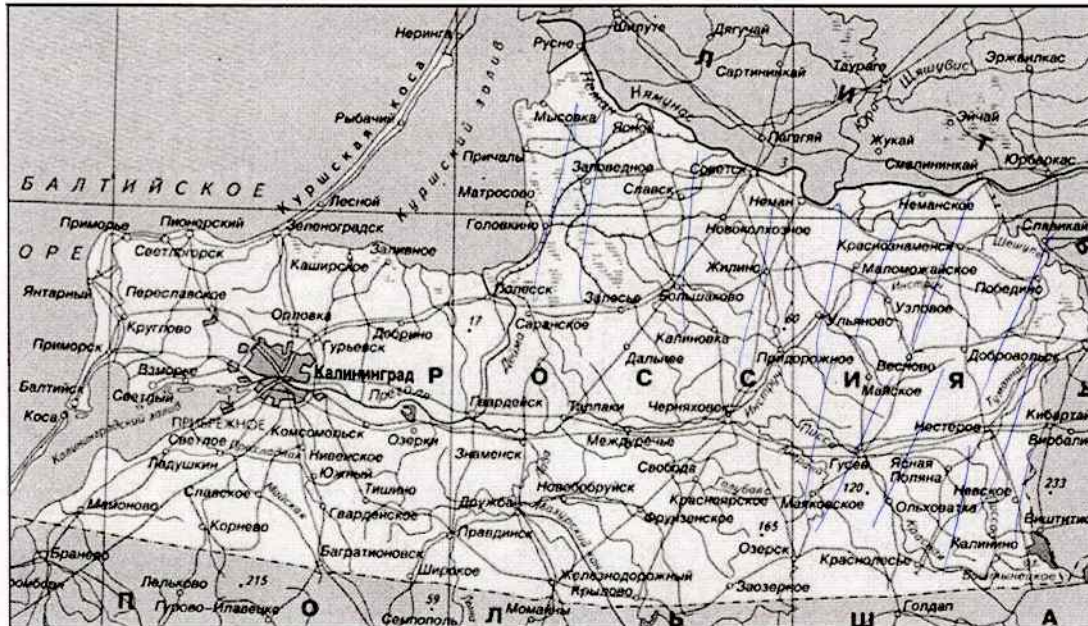
Практический тур

1.

1. Ошибка в логическом ряду	Ленивец <i>об.</i>
2. Обоснование исключения	Для всех краев ленивец характерна засушливая и пустынная среда. Обетинские

2.

об.



3.

0.

№	Объединяющий признак	Белая ворона	Объяснение	Продолжение логического ряда
1				
2				
3				
4	<i>0.</i> Подометие в зап. России	Вадальновский край	Зап. край находится на востоке	Моск. область
5				

БЛАНК ОТВЕТОВ

Теоретический тур

ШИФР: Г1126

1. 58.

1	2	3	4	5
В	Г	Б	А	Д

2. 18.

1	2	3	4	5
Хрустальный Кит	Бельгия Исландия	Флориды	Антверпен Токамак	Климат оросный

3. ~~Амстердам~~ Амстердам 10.

4. Амстердам 10.

5. А; В 10.

6. А 10.

7. Г 10.

8. 20.

1	2	3	4
Г	А	Б	В

9. В 10.

10. Г 10.

11. ДГЗЕ 30.

12. 1 10.

13. 23 10.

14. 1 10.

15. Б 10.

Решения
Задач 3.2

Практический тур

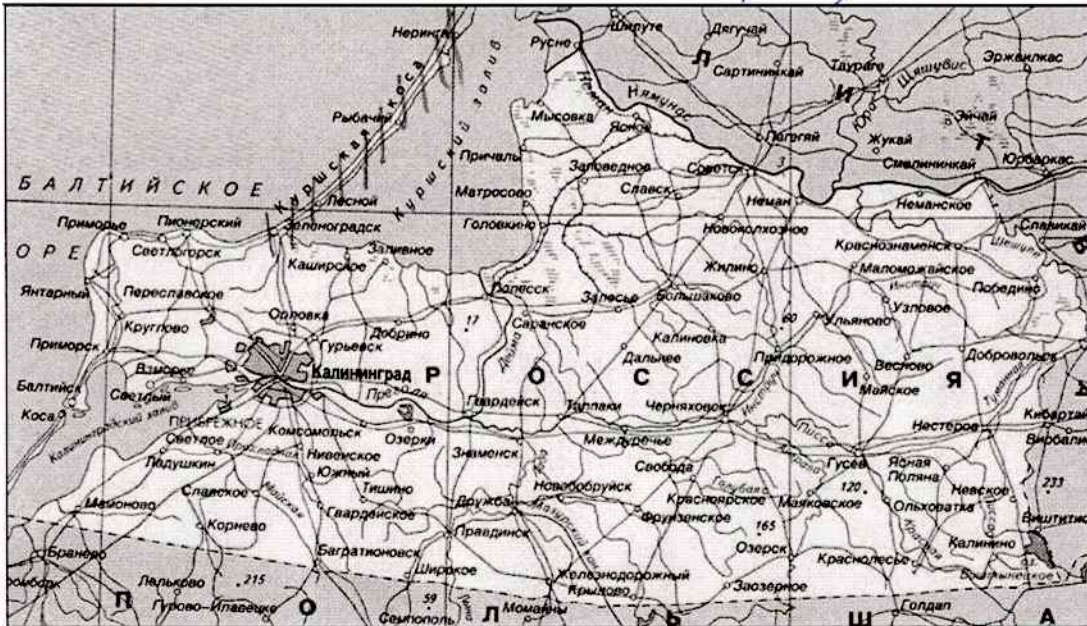
1.

08

1. Ошибка в логическом ряду	Дмуровый верблюд.
2. Обоснование исключения	животные расположены в порядке их обитания в природные зоны с Севера на Юг, кроме верблюда.

2.

06 Территория городов сформировалась в связи с отсутствием моря в время Большого Селедения. Устье реки сформировал новый рывер. Землеустроительный район (срок).



3.

06

№	Объединяющий признак	Белая ворона	Объяснение	Продолжение логического ряда
1	Добыча полезных ископаемых	Венгрия	Не добывают	Орландия
2	Все остальные города России	Унцевск	Область	Давидов
3	Везде развит рыбный промысел	Уркутск	Не развит	Самара
4	Все остальные города за границей	рес. Ка-релия	Не город	Уркутск
5	Торща-курорты	Самара-Руса	Не город	Самара

БЛАНК ОТВЕТОВ

Теоретический тур

ШИФР: Г 11 27

1. 58.

1	2	3	4	5
В	Г	Б	А	Д

2. 08.

1	2	3	4	5
		САХАЛИН		

3. Амазонка 18.

4. Онежское озеро 18.

5. А 18.

6. А 18.

7. Г 18.

8. 28.

1	2	3	4
Г	А	Б	В

9. Б 08.

10. А 18.

11. АГЕЗ 48.

12. 4 18.

13. 1 08.

14. 3 18.

15. 5 08.

Решетникова К.С.
Зачет 37

БЛАНК ОТВЕТОВ

Теоретический тур

ШИФР: Г 1130

1. 58.

1	2	3	4	5
В,	Г,	Б,	А,	А,

2. 08.

1	2	3	4	5
Б	Г	Б	А	А

3. Амазонка. 10.

4. 08.

5. А. 18.

6. Г. 08.

7. В. 08.

8. 10.

1	2	3	4
Г,	А. 0	Б	В 0

9. А. 08.

10. А. 10.

11. А, А, Е 3 38.

12. 4 10.

13. 1 08.

14. 3 10.

15. А. Г. 08.

фф. Реонимовы К.С.
Зачет Грива 3.2

ШИФР: Г 1130

Практический тур

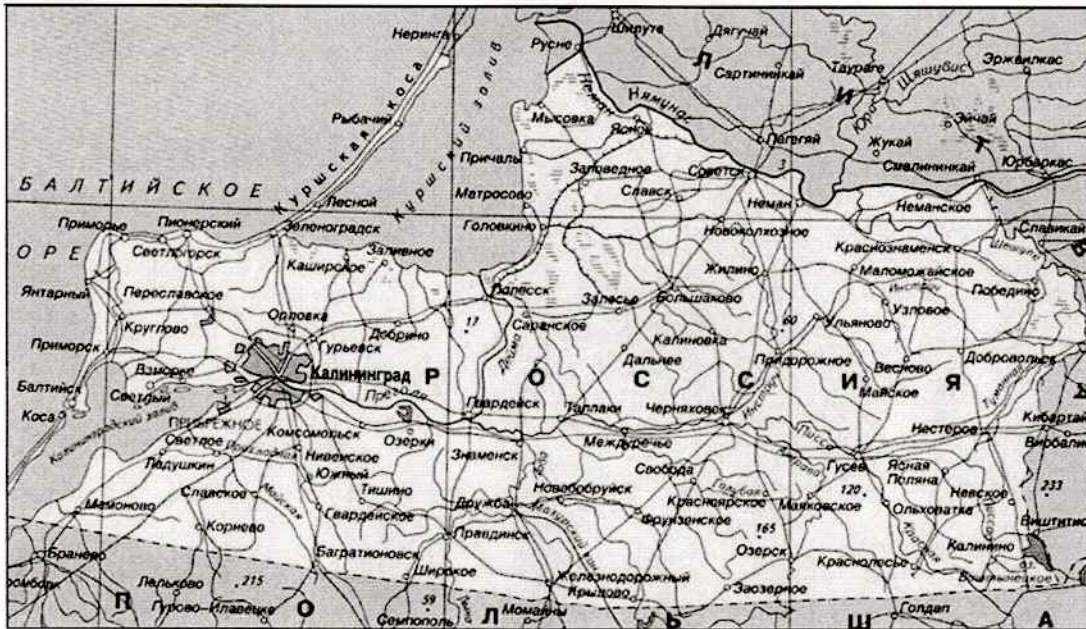
1.

68.

1. Ошибка в логическом ряду	Мешивец
2. Обоснование исключения	Он не обитает в пустыне.

2.

08.



3.

08.

№	Объединяющий признак	Белая ворона	Объяснение	Продолжение логического ряда
1				
2				
3	Грибницами речной транспортной	Спратов.	Нет крупных рек.	Калининград.
4				
5	Города курорты, туристические города	Белокурия	Не является курортом.	К Сочи Калининград